


Nome _____ Cognome _____

Verifica di matematica fila D

Numera i pallini grigi:



Inserisci <, >, =

80 18 79 ... 69 58 ... 80 70 ... 71 74 ... 69

80 ... 80 69 ... 50 75 ... 57 79 ... 58 51 ... 75

Segna con V o F

69 > 73

80 < 79

69 > 69

73 = 73

47 > 74

81 = 18

Esegui le addizioni in colonna (usa il foglio)



--	--

$73 +$

$15 =$

--	--

$69 +$

$10 =$

--	--

$80 +$

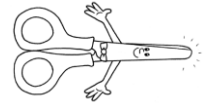
$9 =$

--	--

$64 +$

$22 =$

Esegui le sottrazioni in colonna



(usa il foglio)

--	--

$77 -$

$26 =$

--	--

$78 -$

$45 =$

--	--

$66 -$

$33 =$

--	--

$81 -$

$20 =$

Calcola a mente:

$20 + 20 =$

$10 + 10 =$

$30 + 20 =$

$20 + 50 =$

$70 - 10 =$

$40 - 30 =$

$60 - 30 =$

$60 - 60 =$

Dalle prove INVALSI:


Leggi i quesiti con attenzione e indica con una X la risposta corretta.

1. Quale numero scriveresti al posto dei puntini?

$$42 < \dots\dots\dots$$

- A. 39
- B. 41
- C. 44

Quante palline mancano per arrivare a 80?



- A 4
- B NON SI PUÒ SAPERE
- C 3

$60/60=10$ $54/60=9$ $48/60=8$ $42/60=7$ $36/60=6$ $30/60=5$