


Nome _____ Cognome _____

Verifica di matematica fila A

Numera i pallini grigi:



Inserisci <, >, =

84 91 90 ... 96 75 ... 73 88 ... 88 93 ... 100
90 ... 80 96 ... 95 89 ... 92 87 ... 97 100 ... 101

Esegui le addizioni in colonna (usa il foglio)



| | |
|--|--|
| | |
|--|--|

$78 +$

$23 =$

| | |
|--|--|
| | |
|--|--|

$67 +$

$26 =$

| | |
|--|--|
| | |
|--|--|

$65 +$

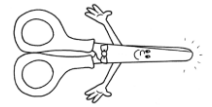
$17 =$

| | |
|--|--|
| | |
|--|--|

$29 +$

$58 =$

Esegui le sottrazioni in colonna (usa il foglio)



| | |
|--|--|
| | |
|--|--|

$96 -$

$48 =$

| | |
|--|--|
| | |
|--|--|

$81 -$

$66 =$

| | |
|--|--|
| | |
|--|--|

$92 -$

$35 =$

| | |
|--|--|
| | |
|--|--|

$76 -$

$49 =$

Calcola a mente:

$60 + 10 =$

$95 + 5 =$

$62 + 8 =$

$95 + 0 =$

$77 - 77 =$

$100 - 10 =$



$90 - 40 =$

$100 - 60 =$

Risolvi il seguente problema:

23. A un corso di nuoto si sono presentati 32 bambini. 9 di loro si sono già tuffati in acqua. Quanti bambini si devono ancora tuffare?

swimming



Dalle prove INVALSI:

c. Silvia vorrebbe comprare il casco da 34 euro, ma in tasca ha solo 15 euro.

Quanti euro le mancano?

Risposta: euro

30/30= 10 27/30= 9 24/30 =8 21/30 =7 18/30 = 6 15/30 =5

BY PAOLA VIALE