


Nome \_\_\_\_\_ Cognome \_\_\_\_\_

Verifica di matematica fila B

Numera i pallini grigi:



Inserisci <, >, =

94 .... 81      60 ... 86      75 ... 75      58 ... 38      100 ... 100

80 ... 88      76 ... 95      99 ... 90      81 ... 87      110 ... 101



Esegui le addizioni in colonna (usa il foglio)

--	--

$76 +$

$25 =$

---

--	--

$68 +$

$27 =$

---

--	--

$69 +$

$16 =$

---

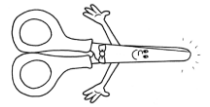
--	--

$37 +$

$58 =$

---

Esegui le sottrazioni in colonna (usa il foglio)



--	--

$96 -$

$57 =$

---

--	--

$91 -$

$74 =$

---

--	--

$92 -$

$35 =$

---

--	--

$76 -$

$49 =$

---

Calcola a mente:

$40 + 10 =$

$85 + 5 =$

$72 + 8 =$

$85 + 0 =$

$80 - 40 =$



$100 - 50 =$

$99 - 9 =$

$100 - 30 =$

Risolvi il seguente problema:

**21.** Martina vuole comprare il casco per andare in bici. Il casco costa 37 euro ma lei ha solo 25 euro. Quanti euro le mancano?



Dalle prove INVALSI:

**D11. Una classe di 9 maschi e 10 femmine, accompagnati dalla maestra Gianna e dalla maestra Luisa, sale sul pulmino per andare in gita. Restano due posti liberi.**

**Quanti sono in tutto i posti a sedere per i viaggiatori sul pulmino?**

- A.  19  
B.  21  
C.  23

$30/30=10$     $27/30=9$     $24/30=8$     $21/30=7$     $18/30=6$     $15/30=5$

BY PAOLA VIALE