

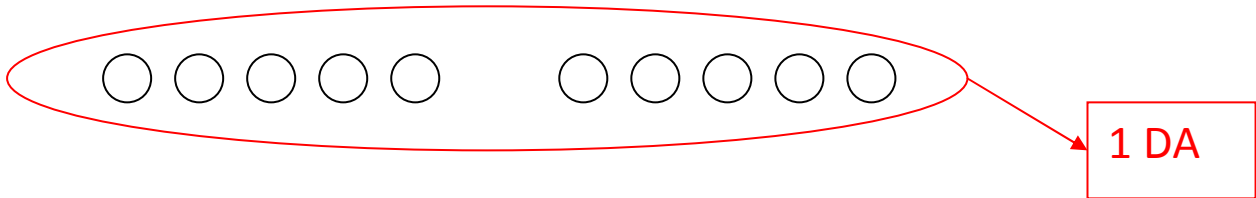
Decine e unità

Queste parole ci ricordano i seguenti numeri:

 **DECINA** deriva dal numero 10;

 **UNITÀ** deriva dal numero 1.

Noi sappiamo che con la decina si prende in considerazione un gruppo formato da 10 elementi.



Se notiamo noi con il raggruppamento abbiamo ottenuto un gruppo contenente 10 palline.

Quindi chiederemo:

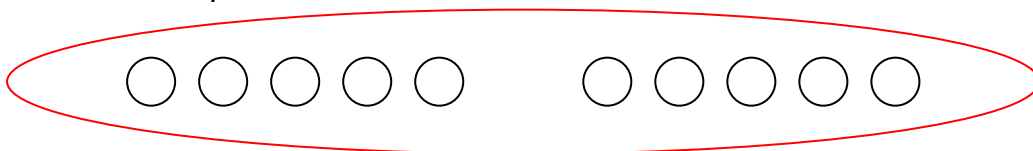
 Quanti gruppi?

 Quante palline all'interno del gruppo?

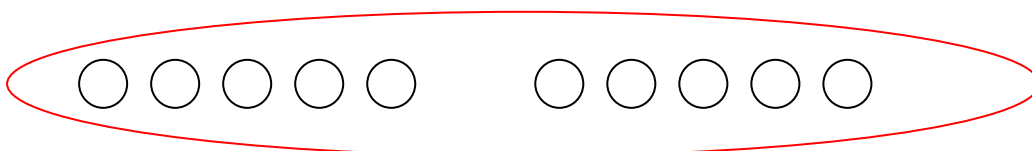
Pertanto il simbolo **DA** considera sempre gruppi di **10 elementi**.

Allora noi diremo che:

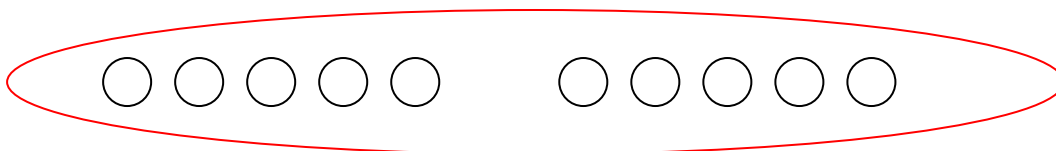

1 DA = 10 palline

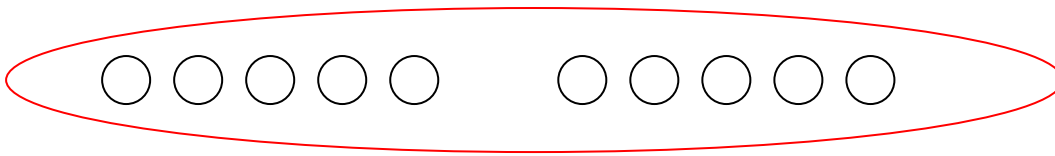


2 DA = 20 palline

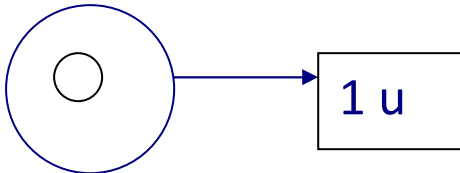


3 DA = 30 palline





Con le **unità** invece avremo un gruppo da un solo elemento. Il simbolo del gruppo dell'unità è rappresentato da **U**.



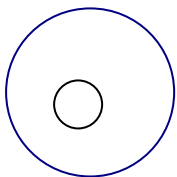
Quindi chiederemo:

- Quanti gruppi?
- Quanti elementi ?

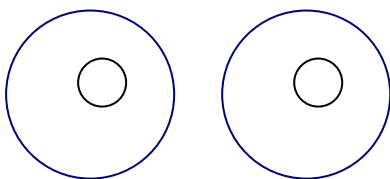
Pertanto il simbolo **U** considera sempre gruppi da un solo elemento.

Allora noi diremo che:

1 U = 1 pallina



2 U = 2 palline



3 U = 3 palline

