


Prove I.N.V.A.L.S.I.

QUALE NUMERO RAPPRESENTA 1DA E 2U?

- a) 12
- b) 21
- c) 2

COLORA 2 DA



QUALE SEGNO DI OPERAZIONE METTI AL POSTO DEL PUNTO DI DOMANDA?

$$3 ? 4 = 7$$

- a) -
- b) +
- c) NON SI SA

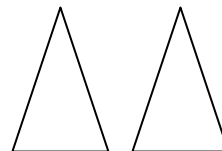

DISEGNA 1 DA E 9 U



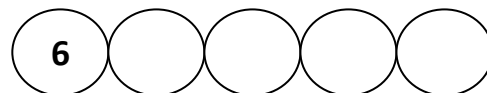
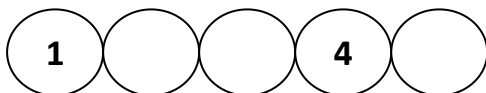
LINDA E SONIA RACCOLGONO LE FRAGOLE NEL BOSCO. LINDA NE HA 6 MENTRE SONIA SOLO 4. QUANTE FRAGOLE IN TUTTO?

- a) 1
- b) 9
- c) 10

CONTA E SCRIVI IL NUMERO



CONTA E INSERISCI I NUMERI MANCANTI



LA MAMMA AVEVA 18 CARMELLE. LUCA E ISA NE MANGIANO 6. QUANTE CARMELLE SONO RIMASTE?

- a) 10
- b) 11
- c) 12

DISEGNA 15 PALLINE E POI RAGGRUPPA PER DECINE E UNITÁ

I GRUPPI CHE HAI TROVATO SONO:

- a) 1 DA E 5 U
- b) 5 DA E 1 U
- c) 0 DA E 0 U

QUALE SEGNO DI OPERAZIONE CI VUOLE AL POSTO DEL PUNTO DI DOMANDA?

$$13 ? 3 = 10$$

- a) NON SI SA
- b) -
- c) +